

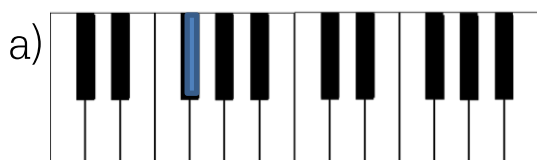


EXERCÍCIOS: AULA 2

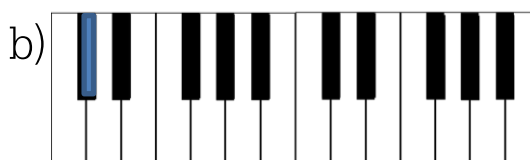
Para fazer o exercício você pode imprimir e responder esta folha, ou colocar as respostas em uma folha à parte para depois conferir o gabarito.

Exercício 1

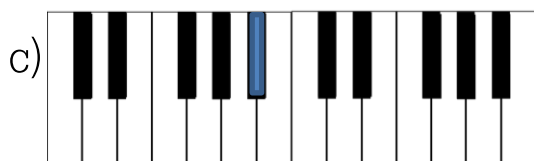
Dê nome às notas:



_____ Ou _____



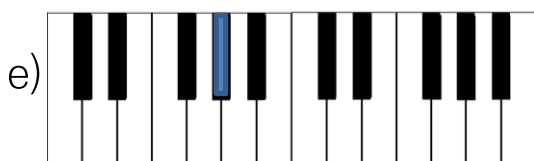
_____ Ou _____



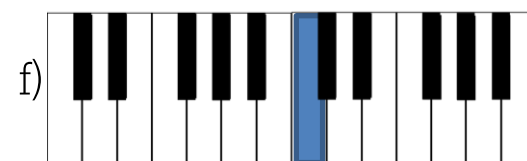
_____ Ou _____



_____ Ou _____



_____ Ou _____



_____ Ou _____



Exercício 2

Indique qual a distância entre as notas abaixo:

1. Sol – Si

a) 1 tom

b) 2 tons

c) 3 tons

d) 4 tons

3. Si – Ré

a) 3 semitons

b) 1 tom e 1 semitom

c) 2 tons e 1 semitom

d) 4 tons e 1 semitom

2. Lá – Lá#

a) 1 semitom

b) 2 semitons

c) 1 tom

d) 2 tons

4. Fá – Dó

a) 2 semitons

b) 4 tons

c) 3 tons e 1 semitom

d) 4 tons e 1 semitom



5. Ré - Réb

- a) 1 tom
- b) 1 tom e 1semitom
- c) 1 semitom
- d) 2 tons

7. Dó - Ré

- a) 2 semitons
- b) 2 tons
- c) 1 tom
- d) 1 semitom

6. Mi - fá

- a) 1 semitom
- b) 2 semitons
- c) 3 tons
- d) 2 tons

8. Mi - Lá

- a) 1 semitom
- b) 4 tons e 1 semitom
- c) 2 tons e 1 semitom
- d) 3 tons



GABARITO:

Exercício 1

- a) fá# ou solb
- b) dó# ou réb
- c) lá# ou sib
- d) ré# ou mib
- e) sol# ou láb
- f) si# ou dó

Exercício 2

- 1. b
- 2. a
- 3. b
- 4. c
- 5. c
- 6. a
- 7. c
- 8. c